



UNIVERSIDADE ESTADUAL DE PONTA GROSSA  
COMISSÃO PERMANENTE DE SELEÇÃO  
PROCESSO SELETIVO SERIADO  
PROVA DE ACOMPANHAMENTO II - 2010

ATENÇÃO! PARA A QUESTÃO DE REDAÇÃO, LEIA ATENTAMENTE AS INSTRUÇÕES ABAIXO E SIGA-AS À RISCA  
FAÇA A REDAÇÃO NO MOMENTO QUE QUISER DENTRO DAS QUATRO HORAS DE QUE VOCÊ DISPÕE

1. A folha que você recebeu para fazer a redação é constituída de duas partes. NÃO AS DESTAQUE.
2. Na parte superior, personalizada, a qual você deve assinar em local próprio, você pode, se quiser, fazer um rascunho da redação (usando caneta ou lápis).
3. Na parte inferior, na qual você deve escrever a versão definitiva da redação, usando caneta com tinta azul ou preta, não poderá haver qualquer identificação, sob pena de a redação não ser considerada.

ESCOLHA UMA DAS PROPOSTAS ABAIXO PARA ELABORAR SUA REDAÇÃO,  
EM PROSA, COM NO MÁXIMO 17 LINHAS, COLOCANDO UM TÍTULO

**PROPOSTA I**

O fragmento abaixo apresenta a parte final de uma narrativa de Dalton Trevisan. Elabore um texto apresentando fatos/acontecimentos que justifiquem o final trágico destes personagens:

Os meninos adormecem, ouvindo o ronco feio do afogado. O maior acorda no meio da noite, vai espiar o pai em sossego, olho branco. Fala com ele, não se mexe. Tem medo e chama o irmão:

— O paizinho morreu.

Sem chorar, encolhidos na beira da cama, à escuta dos pardais da manhã.

(Texto adaptado de: 20 Contos Menores, Editora Record – Rio de Janeiro, 1979, pág. 43)

**PROPOSTA II**

Leia atentamente o fragmento abaixo e depois elabore um texto defendendo seu ponto de vista sobre a decisão da ASA.

Anúncio de sorvete com freira grávida é proibido no Reino Unido

15/09/2010 - 05h26

Um anúncio de sorvete com a fotografia de uma modelo como uma freira grávida foi proibido pelo órgão que regula a publicidade no Reino Unido. A Advertising Standards Authority (ASA, na sigla em inglês) considerou que o anúncio desrespeitava as crenças cristãs, principalmente de católicos. A empresa por trás do anúncio, Antonio Federici, no entanto, prometeu exibir posteres semelhantes em parte do trajeto que o Papa Bento 16 fará na capital britânica. A visita de estado do Papa, que começa nesta quinta-feira, é a primeira desde a criação da Igreja Anglicana em 1534. A peça publicitária mostra uma modelo grávida, vestida de freira, saboreando o sorvete em uma igreja com os dizeres: "Concebido imaculadamente" em referência ao dogma cristão da concepção de Jesus e "Sorvete é a nossa religião".

(Texto adaptado de: <http://noticias.uol.com.br/bbc>, acesso em outubro/2010)

**01** – Com relação às assertivas a seguir, assinale o que for correto.

- 01) O romance "Memória de um Sargento de Milícias" descreve o amor entre Leonardinho e Luisinha, personagens descritos de acordo com os padrões românticos, que lutam contra todos os interesses sociais que os separava. A idealização do amor e das personagens, a religiosidade e o nacionalismo são presentes em todo o romance.
- 02) A emoção estética, a arte pela arte, a objetividade, o descritivismo e o rigor formal com preferência pelo soneto são características do Parnasianismo, assim como a espiritualidade, a subjetividade, a musicalidade e a sugestão por meio das figuras de linguagem são características do Simbolismo.
- 04) Em "Memórias de um Sargento de Milícias", Manuel Antônio de Almeida apresenta a história de Leonardinho, personagem que o caracteriza como um anti-herói em relação às características comuns das personagens do Romantismo.
- 08) Crítica aos indivíduos, ao casamento e às demais relações sociais e a presença constante de comentários dirigidos ao leitor são características de Machado de Assis.

---

TEXTO PARA A QUESTÃO 02

*Brigitte Bardot*  
Zeca Baleiro  
Composição: Zeca Baleiro

a saudade  
é um trem de metrô  
subterrâneo obscuro  
escuro claro  
é um trem de metrô  
a saudade  
é prego parafuso  
quanto mais apertada  
tanto mais difícil arrancar  
a saudade  
é um filme sem cor  
que meu coração quer ver colorido (...).

Adaptado de: <http://letras.terra.com.br/zeca-baleiro/49379/>  
acesso em Setembro/2010.

---

**02** – Identifique a figura de linguagem existente no fragmento, "a saudade é um trem de metrô", e assinale o que for correto, no que se refere à forma equivalente.

- 01) O tempo é uma cadeira ao sol e nada mais (Carlos Drummond de Andrade).
- 02) Meu coração é um balde despejado (Fernando Pessoa).
- 04) Como é difícil viver carregando um cemitério na cabeça (Biquini Cavado).
- 08) Viemos preparados pra almoçar soldados (Legião Urbana).

---

TEXTO PARA AS QUESTÕES 03 E 04

Chefe pão-duro

O funcionário pergunta ao patrão:

- Chefe, por que o senhor não me dá um aumento?
- E por que eu deveria te dar um aumento?
- É que eu trabalho por dois.
- Pois me diga quem é o outro que eu vou demiti-lo agora mesmo.

Adaptado de: Brasil Almanaque de Cultura Popular, 2007, nº 103, p.34.

---

**03** – Assinale o que for correto, no que se refere às intenções implícitas no texto.

- 01) O funcionário acredita que está trabalhando demais.
  - 02) O patrão não pretende dar aumento ao funcionário.
  - 04) O patrão tem a pretensão de pagar somente a metade do salário do funcionário.
  - 08) O funcionário acredita que está trabalhando o suficiente.
-

**04** – Considerando o emprego do pronome em "demitir-lo", assinale o que for correto, no que se refere ao mesmo emprego, se os verbos destacados estivessem acompanhados do pronome.

- 01) Corro até a janela e abro.
- 02) Fez os alunos entrar, porque já estava no horário.
- 04) Ajudemos Rosa a fazer o melhor que puder.
- 08) A modéstia amplia talentos, a vaidade diminui.

---

TEXTO PARA A QUESTÃO 05

O homem não se define somente pelo trabalho, mas pelo jogo. Não só as crianças gostam de jogar, os adultos também gostam e por isso vemos partidas de futebol. Nós somos *homo ludens*.

Adaptado de: Edgar Morin,  
disponível em <http://pedagogodrama.blogspot.com/2008/04/jogos-dramaticos.html>, acesso em Setembro/2010.

---

**05** – Em relação à afirmação do texto, assinale o que for correto.

- 01) O jogo dramático constitui-se na principal forma de representação teatral do século XX.
- 02) O jogo dramático é uma forma de desentorpecer o corpo e a mente dos condicionamentos da vida atual pela atuação lúdica.
- 04) A principal premissa do jogo dramático é um roteiro preestabelecido para encaminhar a improvisação dos participantes.
- 08) O jogo dramático leva o sujeito a vivenciar psicodramaticamente situações para as quais ainda não havia se voltado ou pensado a respeito.

---

**06** – Assinale o que for correto, em relação às qualidades plásticas nas artes visuais.

- 01) Equilíbrio significa que na interpretação visual todas as coisas são vistas e planejadas a partir de um "eixo" vertical com um referente horizontal secundário.
- 02) Harmonia nas artes visuais decorre exclusivamente da relação das cores primárias e secundárias.
- 04) Proporção nas artes visuais significa a justa relação das partes entre si e de cada parte com o todo.
- 08) O ritmo nas artes visuais resulta das pesquisas do expressionismo com os elementos ponto e linha.

---

**07** – Em relação à representação da pintura a seguir, assinale o que for correto.



Fonte: Graça Proença, História da arte. **Trigo** de Eliseu Visconti, p.221.

- 01) O autor do quadro privilegiou impressões pictóricas ao ar livre em lugar dos retratos no interior de estúdio.
  - 02) O autor da obra nasceu na Itália e veio para o Brasil tornando-se um dos principais representantes do impressionismo brasileiro.
  - 04) O quadro representa a arte contemporânea brasileira caracterizada pela deformação das figuras e pela temática social retratando a miséria.
  - 08) A pintura, ao privilegiar impressões de um momento na natureza, mostra a superação dos princípios neoclássicos que caracterizam a arte brasileira do século XIX.
-

**08** – Com relação às assertivas a seguir, assinale o que for correto.

- 01) Flauta, flautim, clarinete e fagote são instrumentos de sopro de madeira.
  - 02) Viola, violoncelo, contrabaixo e harpa são instrumentos de corda.
  - 04) Trompa, trompete, corneta e trombone são instrumentos de sopro de metal.
  - 08) Xilofone, castanholas, matraca e tímpano são instrumentos de percussão.
- 

**09** – O corpo humano pode ser seccionado por planos anatômicos bidimensionais e eixos imaginários que permitem a sua divisão e visualização de forma mais detalhada. Nesse contexto, no que se refere à divisão do corpo humano nos planos sagital e ântero-posterior, assinale o que for correto.

- 01) Plano sagital tem por função a divisão do corpo humano em hemisférios direito e esquerdo.
  - 02) Plano ântero-posterior tem por finalidade dividir o corpo em parte dos membros superiores e membros inferiores.
  - 04) Plano sagital tem por função a divisão do corpo humano em hemisférios superior e inferior.
  - 08) Plano ântero-posterior tem por função a divisão do corpo humano em hemisférios frontal e dorsal.
- 

**10** – Considerando que o futebol profissional é uma manifestação da cultura corporal de movimento, assinale o que for correto.

- 01) É uma atividade física específica de competição, em que são adotadas regras de caráter oficial, organizadas em federações.
  - 02) É um fenômeno esportivo universal que envolve praticantes de diferentes culturas mundiais.
  - 04) É uma ação social que se desenvolve em forma coletiva, como competição entre vários oponentes e cujo resultado é determinado pela habilidade, pela tática e pela estratégia.
  - 08) É um esporte espetáculo, que envolve a sofisticação de recursos tecnológicos, que entretém o espectador.
- 

**11** – No que se refere às principais características do exercício aeróbico, assinale o que for correto.

- 01) São as atividades físicas que requerem a presença permanente de oxigênio para a oxidação dos substratos alimentares.
  - 02) São as atividades realizadas com pequeno volume e grande intensidade.
  - 04) São as atividades realizadas com grande volume e pequena intensidade.
  - 08) São as atividades que promovem o aumento da capacidade de oxidação dos carboidratos e gorduras.
- 

**12** – No que se refere ao estresse, assinale o que for correto.

- 01) É a resposta integrada do organismo a qualquer estímulo ou ameaça imaginária, de origem interna, que não provoque uma alteração da homeostase.
  - 02) É qualquer estímulo que não provoque alterações nervosas e bioquímicas, visando adaptar o organismo à situação de equilíbrio funcional.
  - 04) É todo estímulo capaz de provocar reações de adaptação ou dano, desencadeando no organismo a chamada síndrome geral de adaptação.
  - 08) É o conjunto de reações do organismo a agressões de ordem física e psíquica, capazes de perturbar o equilíbrio orgânico.
- 

**13** – A respeito dos vírus, assinale o que for correto.

- 01) Alguns vírus são chamados envelopados porque possuem um envelope lipoproteico proveniente da membrana plasmática da célula hospedeira. Um exemplo desses vírus é o HIV.
  - 02) Existem nos vírus basicamente dois tipos de ciclos reprodutivos: o ciclo lítico e o ciclo lisogênico. Apenas no ciclo lítico o vírus comanda o metabolismo da célula hospedeira.
  - 04) A transmissão dos vírus das plantas pode ser feita por um vetor como um inseto, um fungo ou um verme nematódeo. Alguns vírus são transmitidos através do grão de pólen, das sementes ou por difusão mecânica.
  - 08) A maior parte dos vírus, ao infectar uma célula animal, penetra nela com a cápsula e o ácido nucleico, diferindo dos bacteriófagos, que só introduzem nas bactérias o ácido nucleico.
-

14 – Sobre os fungos, assinale o que for correto.

- 01) Nos fungos do grupo dos basidiomicetos há alternância de gerações, com duas fases de vida: uma haploide e outra diploide.
  - 02) Os fungos são heterótrofos, com absorção lenta e contínua dos nutrientes provenientes do substrato orgânico após a ação extra celular de suas enzimas digestivas.
  - 04) Da associação (mutualismo) entre fungos (geralmente ascomicetos) e algas unicelulares (verdes ou azuis) resultam os líquens, que por serem muito sensíveis a mínimos traços de poluentes do ar, são bons indicadores naturais usados no monitoramento da poluição atmosférica.
  - 08) Os fungos são organismos eucariontes, unicelulares ou pluricelulares, autotróficos facultativos e possuem parede celular constituída exclusivamente de celulose.
- 

15 – A respeito dos artrópodes, assinale o que for correto.

- 01) De cada 4 animais existentes na Terra, 3 são artrópodes. Dentre os pertencentes a esse filo destacam-se: aranhas, besouros, borboletas, caranguejos, centopeias, escorpiões, libélulas e moscas. As semelhanças entre eles estão na articulação das pernas e demais extremidades (antenas e peças bucais).
  - 02) Como nos artrópodes o exoesqueleto rígido quitinoso envolve totalmente o corpo do animal; o seu crescimento só ocorre por meio de muda, ou ecdise, processo regulado pelo hormônio ecdisona.
  - 04) Os únicos artrópodes que possuem dois pares de antenas são os diplópodes.
  - 08) Ao contrário dos insetos e crustáceos, que possuem apenas olhos simples, os aracnídeos possuem olhos compostos.
- 

16 – A respeito das angiospermas, assinale o que for correto.

- 01) São plantas de reprodução sexuada, que possuem flores completas formadas pelo pedicelo e pelo receptáculo onde se inserem os verticilos florais: cálice, corola, androceu e gineceu.
  - 02) As angiospermas possuem raiz fasciculada ou pivotante e folhas invaginantes ou pecioladas com nervuras paralelas ou ramificadas.
  - 04) A conquista definitiva do ambiente terrestre pelas plantas ocorreu com o surgimento de elementos que permitiram a fecundação sem a necessidade de água para o deslocamento do gameta masculino. As primeiras plantas a apresentarem essa condição foram as angiospermas.
  - 08) Além das árvores frutíferas, o alho, a cebola, o milho, o eucalipto, o feijão, o cacto e a seringueira também são exemplos de angiospermas.
- 

17 – Sobre a pressão exercida por um líquido em corpos mergulhados nele, assinale o que for correto.

- 01) A diferença de pressão entre dois pontos de um líquido em equilíbrio é igual ao produto da diferença de nível entre os dois pontos pelo peso específico do líquido.
  - 02) Se um corpo for mergulhado completamente num líquido, a pressão que o líquido exerce sobre o corpo é igual ao peso do volume do líquido que o corpo desloca.
  - 04) A pressão aplicada a um líquido, contido em um recipiente, transmite-se igualmente em todas as partes do recipiente.
  - 08) A pressão exercida por um líquido no fundo de um reservatório independe da sua forma.
- 

18 – A figura abaixo mostra um recipiente que contém uma determinada massa gasosa confinada por um embolo que se desloca ao longo do cilindro. Sobre o gás, assinale o que for correto.



- 01) Ocorrendo uma transformação isométrica do gás, este realiza um trabalho positivo sobre o embolo.
  - 02) Se o gás for aquecido, mantendo-se o volume constante, a pressão no interior do recipiente aumentará.
  - 04) Nas transformações em que há variação de volume da massa gasosa, na expansão ou na diminuição do volume de gás, o trabalho é positivo na expansão do volume e negativo na sua diminuição.
  - 08) De acordo com a 1ª Lei da Termodinâmica, o trabalho realizado pelo gás, quando este realiza um ciclo completo de transformação, é sempre positivo.
-

**19** – A propagação de uma perturbação, com transferência de energia, origina o que se chama de onda. Sobre as ondas, assinale o que for correto.

- 01) Quando uma onda passa de um meio para outro, seu período e sua frequência não se alteram, mas a velocidade se altera.
  - 02) Ondas magnéticas são ondas transversais, geradas pela vibração de cargas elétricas, que não dependem de um meio material para se propagar.
  - 04) O som é gerado por ondas elásticas longitudinais e sua amplitude diminui à medida que se afastam da fonte sonora.
  - 08) A reflexão é uma propriedade das ondas eletromagnéticas; no caso de ondas longitudinais que se propagam em meios elásticos a propriedade da reflexão não ocorre.
- 

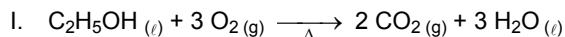
**20** – Num recipiente adiabático são colocados 100 g de água a uma temperatura  $\Theta$  e uma massa de gelo fundente. Considerando que o calor latente do gelo é 80 cal/g e que o calor específico da água é 1 cal/g °C, assinale o que for correto.

- 01) Sendo a massa do gelo igual a da água e 80 °C a temperatura da água no instante em que entrou em contato com o gelo, a quantidade de calor doado pela água é suficiente para derreter o gelo completamente.
  - 02) Sendo a massa de gelo a metade da massa da água e 80 °C a temperatura da água no instante em que entrou em contato com o gelo, a temperatura de equilíbrio térmico será aproximadamente 27 °C.
  - 04) Sendo a massa de gelo igual a da água e 60 °C a temperatura da água no instante em que entrou em contato com o gelo, ocorrerá no recipiente a fusão parcial do gelo.
  - 08) Para que o sistema (água e gelo) entre em equilíbrio térmico a uma temperatura de 80 °C, é necessário doar ao sistema 8.000 cal.
- 

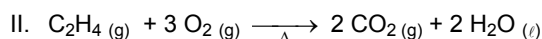
**21** – Uma solução aquosa de  $HCl$  tem densidade igual a 1,20 g/ml e contém 40% em massa de  $HCl$ . Sobre essa solução, assinale o que for correto.

- 01) Uma concentração de 40% em massa de  $HCl$  significa que existem 40 g de  $HCl$  para 60 g de solução aquosa.
  - 02) A massa de água existente em 1 litro da solução de ácido nessa concentração é de 720 g.
  - 04) A concentração em mol/l dessa solução, sabendo-se que 1,0 mol de  $HCl$  corresponde a 36,5 g, é 12 mol/l.
  - 08) O volume dessa solução que contém 24,0 g de  $HCl$  é de 50 ml.
- 

**22** – Quantidades diferentes de entalpia são envolvidas na combustão de etanol ( $C_2H_5OH$ ) e etileno ( $C_2H_4$ ) como mostram as equações I e II abaixo:

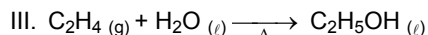


$\Delta H = - 1368$  kJ/mol de etanol.



$\Delta H = - 1410$  kJ/mol de etileno.

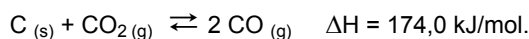
Sob condições adequadas é possível obter etanol a partir da reação representada pela equação a seguir:



Sobre essas reações, assinale o que for correto.

- 01) Sabendo-se que a entalpia de formação de  $H_2O_{(l)}$  é  $- 286$  kJ/mol e que a do  $C_2H_4$  é de 52 kJ/mol, a entalpia de formação do  $C_2H_5OH$  é de  $- 234$  kJ/mol.
  - 02) A variação de entalpia envolvida por mol de  $C_2H_4$  consumido na reação III é de  $- 42$  kJ/mol.
  - 04) A reação de obtenção do etanol (reação III) libera calor para o meio.
  - 08) As reações de combustão de etanol ( $C_2H_5OH$ ) e etileno ( $C_2H_4$ ) são exotérmicas.
-

23 – A reação de transformação do dióxido de carbono em monóxido de carbono é representada por,

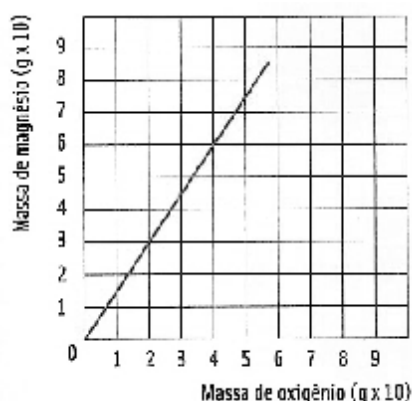


A constante de equilíbrio dessa reação pode ser expressa em termos de pressões parciais (P), como  $K_p = P^2_{\text{CO}} / P_{\text{CO}_2}$ . De acordo com a reação acima, assinale o que for correto quanto ao efeito sobre o seu equilíbrio.

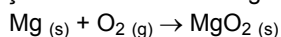
- 01) Se for adicionado mais carbono sólido ao meio reacional, o equilíbrio não é afetado já que o sólido não entra na expressão da constante de equilíbrio  $K_p$ .
- 02) O aumento da temperatura desloca o equilíbrio para a direita, pois é o sentido endotérmico.
- 04) Se for adicionado um catalisador ao meio reacional, este não desloca o equilíbrio, pois acelera igualmente as reações direta e inversa.
- 08) Se for aumentada a pressão do sistema, o equilíbrio é deslocado no sentido onde houver um menor número de mols de moléculas do gás, isto é, para a esquerda.

24 – O gráfico a seguir relaciona as massas de magnésio que reagem com o oxigênio para formar o óxido de magnésio. Considerando-se essa reação como completa, ocorrida com reagentes puros, e analisando o gráfico abaixo, assinale o que for correto.

Dados: Mg = 24 g/mol; O = 16 g/mol.



- 01) Se na reação forem utilizados 60 g de magnésio e 60 g de oxigênio, haverá um excesso de 20 g de oxigênio.
- 02) A proporção entre as massas de magnésio e de oxigênio que reagem para formar o óxido de magnésio é de 3 de magnésio para 2 de oxigênio.
- 04) Se na reação forem utilizados 60 g de magnésio e 60 g de oxigênio, haverá a formação de 120 g de óxido de magnésio.
- 08) A reação balanceada é a seguinte:



25 – Sobre uma circunferência são marcados 8 pontos distintos e em seguida são traçados polígonos convexos inscritos com vértices nesses pontos. Se t é o número de triângulos, q o número de quadriláteros e p o número de pentágonos que podem ser traçados, assinale o que for correto.

- 01)  $q < 60$ .
- 02)  $t = p$ .
- 04)  $t > 50$ .
- 08)  $t > q$ .

26 – Sobre as assertivas abaixo, assinale o que for correto.

- 01) Uma esfera está inscrita em um cubo. A razão entre o volume da esfera e o volume do cubo é  $\frac{\pi}{6}$ .
- 02) Um paralelepípedo retângulo tem área total de  $1.600 \text{ cm}^2$  e diagonal igual a 30 cm. A soma de todas as suas arestas é 200 cm.
- 04) Um cilindro equilátero tem volume de  $250\pi \text{ cm}^3$ . A área total desse cilindro é  $150\pi \text{ cm}^2$ .
- 08) A área total de um prisma triangular reto de altura 10 cm, cuja base é um triângulo retângulo de catetos 5 cm e 12 cm, vale  $360 \text{ cm}^2$ .

27 – Sabendo que  $\begin{vmatrix} 1 & x & y \\ 1 & a & b \\ 1 & m & n \end{vmatrix} = D$ , assinale o que for correto.

01)  $\begin{vmatrix} 2 & 2 & 2 \\ -y & -b & -n \\ x & a & m \end{vmatrix} = 8D$ .

02)  $\begin{vmatrix} 3 & 3x & y \\ 3 & 3a & b \\ 3 & 3m & n \end{vmatrix} = 3D$ .

04)  $\begin{vmatrix} 3x & 3 & -y \\ 3a & 3 & -b \\ 3m & 3 & -n \end{vmatrix} = 9D$ .

08)  $\begin{vmatrix} -1 & -1 & -1 \\ -x & -a & -m \\ y & b & n \end{vmatrix} = D$ .

---

28 – Sabendo que no desenvolvimento de  $(x + a)^n$  há um termo com parte literal igual a  $x^4 a^3$ , assinale o que for correto.

- 01) O coeficiente do termo em  $x^4 a^3$  vale 35.
- 02) A soma dos coeficientes do desenvolvimento vale 128.
- 04)  $n$  é um número ímpar.
- 08) O desenvolvimento tem 7 termos.

---

29 – Sobre o Feudalismo, assinale o que for correto.

- 01) A sociedade era rigidamente hierarquizada.
- 02) A principal unidade produtora do feudalismo era chamada de feitoria.
- 04) O poder era fragmentado entre os senhores feudais e o rei.
- 08) A economia nesse período era dinâmica e voltada ao comércio entre os países.

---

30 – No início do século XVI, mesmo com o interesse voltado às riquezas da Índia, os portugueses iniciaram o processo de colonização do Brasil. Sobre a colonização do Brasil, assinale o que for correto.

- 01) O sistema de colonização adotado pelo governo português consistiu em dividir o território em extensões de terra e concedê-las a particulares. Esse sistema foi o das capitanias hereditárias.
- 02) A economia açucareira implantada no Brasil era uma atividade de alta lucratividade garantida pelo trabalho livre assalariado.
- 04) O sistema colonial organizado pelos portugueses visava desenvolver o Brasil por meio de uma economia forte centrada na industrialização.
- 08) Quando os primeiros portugueses chegaram, estabeleceram-se em alguns pontos do território brasileiro e passaram a explorar algumas riquezas, das quais a mais importante foi o pau-brasil.

---

31 – Sobre a Revolução Francesa, assinale o que for correto.

- 01) Na época da revolução a França estava dividida em três estados: membros da igreja, nobreza e o restante da população francesa.
  - 02) A Bastilha, um dos símbolos do absolutismo, foi tomada pela população revoltosa, quando a notícia da traição do rei circulou por Paris.
  - 04) Uma das ideias defendidas pela revolução era a valorização de uma sociedade dividida em classes, onde a nobreza fosse cada vez mais valorizada.
  - 08) Os ideais da revolução eram igualdade, liberdade e fraternidade.
-



**32** – No início do século XIX ocorreu a crise do sistema colonial no Brasil. Em relação a esse momento, assinale o que for correto.

- 01) O ouro se tornava cada vez mais escasso, entretanto o governo português continuava a exigir pesados impostos dos mineiros.
  - 02) Fugindo da invasão francesa, o governo português transferiu sua sede para o Brasil em 1808.
  - 04) Com a presença da família real portuguesa no Brasil, D. João decretou a abertura dos portos às nações amigas, extinguindo, por consequência, o monopólio do comércio.
  - 08) Com a presença da corte portuguesa, centros urbanos passaram por modificações, principalmente o Rio de Janeiro, com a criação da Biblioteca Real, do Jardim Botânico e da Imprensa Real.
- 

**33** – Sobre o território paranaense, sua posição e pontos extremos, assinale o que for correto.

- 01) O Paraná localiza-se na Região Sul do Brasil e limita-se com os estados de São Paulo, Mato Grosso do Sul e Santa Catarina, com as repúblicas argentina e paraguaia e com o Oceano Atlântico, possuindo parte de seu território na zona tropical e a maior parte na zona subtropical.
  - 02) O seu ponto extremo norte está a 22° 30' de longitude norte e o seu ponto extremo sul está a 26° 43' de longitude sul.
  - 04) O seu ponto extremo leste está no município de Guaraqueçaba e o seu ponto extremo oeste está no município de Foz do Iguaçu.
  - 08) Pela sua localização o Paraná está no segundo fuso horário brasileiro a contar de leste para oeste, estando na hora oficial de Brasília e três horas atrasado em relação a Londres.
- 

**34** – Sobre a divisão do Brasil em complexos regionais e algumas das características dessas áreas, assinale o que for correto.

- 01) Trata-se de uma divisão do Brasil em três grandes espaços territoriais, a saber: Amazônia, Nordeste e Centro-Sul; e que não se baseia nas divisas dos estados brasileiros, mas nas suas características geográficas e econômicas.
  - 02) No Complexo Regional do Nordeste as maiores cidades e metrópoles regionais são: Salvador (Nordeste Meridional), Recife (Nordeste Oriental) e Fortaleza (Nordeste Setentrional), e é nessas áreas que se concentram as indústrias nordestinas.
  - 04) O Centro-Sul é o centro econômico do país e onde se concentra o maior parque industrial da América Latina; mas ainda apresenta graves problemas sociais, tais como: criminalidade, falta de moradia, desemprego, poluição e baixa qualidade de vida para muitos.
  - 08) A Amazônia se caracteriza por uma população absoluta reduzida, baixa densidade demográfica e uma economia baseada na agropecuária e no extrativismo mineral e vegetal.
- 

**35** – A respeito da bacia hidrográfica do Rio São Francisco, assinale o que for correto.

- 01) Não possui potencial hidrelétrico significativo pois apenas a Usina de Paulo Afonso já esgotou as possibilidades de aproveitamento da bacia hidrográfica nesse setor.
  - 02) Com a concretização do projeto de transposição das águas do Rio São Francisco, poderá ser proporcionado o abastecimento de água às áreas semiáridas do sertão nordestino nos estados de Pernambuco, Paraíba, Rio Grande do Norte e Ceará.
  - 04) A bacia é importante pelo volume de água que transporta em plena região semiárida, mesmo nos períodos de estiagem.
  - 08) Os períodos de estiagem na região da bacia impedem qualquer aproveitamento de suas águas para a irrigação.
- 

**36** – Sobre as condições de vida da população brasileira, assinale o que for correto.

- 01) Com os avanços mais recentes a marginalização socioeconômica que caracterizava a maior parte da população brasileira deixou de existir e pouca coisa resta a fazer nessa área por parte das autoridades competentes.
  - 02) As famílias brasileiras mais pobres e marginalizadas evitam colocar crianças no mercado de trabalho ou aceitar trabalhos precários sem registros em carteira de trabalho em detrimento do aumento da sua renda familiar.
  - 04) As desigualdades sociais do Brasil são agravadas pelo descaso com a educação e a falta de investimentos nesse setor, não apenas com a educação básica, mas também com a profissionalizante.
  - 08) Problemas como a falta de água canalizada, de esgotos e de fossas sépticas e deficiência na coleta de lixo para parte da população brasileira contribuem para que o Índice de Desenvolvimento Humano (IDH) do país ainda fique numa posição desconfortável em relação aos demais países.
-

---

---

### ATENÇÃO!

Esta prova apresenta, a seguir, em sequência, quatro questões de Espanhol e quatro de Inglês, com a mesma numeração (37, 38, 39, 40). Como na inscrição você optou por uma dessas duas línguas, cumpra essa opção.

---

---

## ESPAÑHOL

TEXTO PARA AS QUESTÕES 37 A 40

### Un regalo de Satanás

El labrador se detuvo en medio del campo, para descansar junto a su yegua "Mala Cara" debajo de la sombra de unos sauces al costado del arroyo. El sol parecía querer prenderle fuego hasta a los cascotes de tierra que se quebraban como tizas cuando el disco del arado los separaba del suelo.

El graznido provocador de los teros, siempre le avisaban del lugar del nido, al que esquivaba, pues la pachamama no perdona si no se respeta a sus hijos. ¿Sudor?, ¡que va!, ni sudor quedaba en ese cuerpo flaco y seco, aunque contaba solamente treinta y siete primaveras y otros tantos inviernos; y de los dientes ni hablar, que fueron su dolor por años por no haber dentistas, hospital o valor para ir al pueblo a curar esa boca llena de nadas o a la mitad de algo, teñidos con el ocre y negro del tabaco barato y del papel de fumar.

Y no más que de pronto, bajo una nube de polvo, le aparece una linda mujer. Se puso aprensivo al paso que la mujer lo miraba y lo llamaba. El labrador que bien supiera que de aquellas bandas no surgiría una mujer como aquella, desconfió que fuera la propia cosa mala.

Así que se le tomó el crucifijo a manos y trató de expulsarla, le dijo en voz alta: - ¡ándate de acá Satanás! - mientras le mostraba un crucifijo hecho en Palo Santo y que siempre llevaba al cuello colgando de una trenza hecha de crines.

Adaptado de: Cuentos cortos de humor,  
disponible em, <http://www.losmejores cuentos.com/cuentos/humor687.php>,  
acceso em setembro/2010.

---

**37** – Sobre o texto, assinale o que for correto.

- 01) O local em que se encontrava o lavrador estava muito quente.
  - 02) É possível perceber que o lavrador estava arando a terra.
  - 04) O lavrador tinha 37 anos.
  - 08) Sob uma poeira apareceu uma linda mulher.
- 

**38** – No que se refere à tipologia textual, assinale o que for correto.

- 01) É um texto literário.
  - 02) É um texto jornalístico.
  - 04) O texto é dissertativo.
  - 08) O texto é narrativo.
- 

**39** – Sobre o texto, que se refere ao tempo verbal, assinale o que for correto.

- 01) O tempo verbal predominante é o presente do indicativo.
  - 02) O tempo verbal predominante é o passado.
  - 04) O tempo verbal predominante é o presente do subjuntivo.
  - 08) Há uma alternância no uso dos tempos do pretérito indefinido e do pretérito imperfeito.
- 

**40** – Sobre o vocabulário do texto, assinale o que for correto.

- 01) Yegua – significa égua em português.
  - 02) Nido – significa ninho em português.
  - 04) Tero – é uma espécie de ave.
  - 08) Teñidos – significa marcados em português.
-

# INGLÊS

TEXTO PARA AS QUESTÕES 37 A 40

## Golden Touch

The World Cup title might be the most coveted honor in soccer, but there's one thing the winning nation can't possess: the actual trophy. The 18-karat-gold statue has been kept mostly under lock and key at an undisclosed location since its predecessor, the Jules Rimet trophy, was stashed under a bed during World War II, held for ransom and recovered, then stolen for good in Brazil in 1983.

That statue was first pinched in March 1966 from an exhibition in London, which hosted the final match that year. Fortunately, a dog named Pickles helped his nation save face by ferreting out the newspaper-wrapped trophy in a garden, earning him a place alongside the prime minister when England celebrated its World Cup win that summer. It hasn't won since.

The champions of this year's tournament in South Africa will get to keep only a gold-plated replica of the post-Rimet prize. But legions of soccer fans had a rare chance to see the real thing up close: The current trophy, in use since 1974, was the focus of a recent 83-country grand tour. "Only heads of state and World Cup winners can hold the trophy," says FIFA spokesman Alex Stone. The rest of us can only look – and dream.

Adaptado de: Luna Shyr - National Geographic, June 2010.

---

**37** – De acordo com o texto, assinale o que for correto.

- 01) O texto menciona dois diferentes troféus.
- 02) O troféu Jules Rimet foi roubado por três vezes.
- 04) O troféu Jules Rimet desapareceu em definitivo no Brasil.
- 08) Atualmente, o time vencedor da copa recebe apenas uma réplica do troféu original.

---

**38** – Quanto ao segundo parágrafo, cujo texto relata o que ocorreu no ano de 1966, assinale o que for correto.

- 01) O cachorro herói não foi sequer citado durante a entrega do troféu.
- 02) O troféu foi recuperado por um cachorro chamado Pickles.
- 04) O campeão da copa nesse ano foi o país que sediava o evento.
- 08) O troféu foi roubado antes do final do torneio, na Inglaterra.

---

**39** – Com relação ao último parágrafo do texto, no segmento "this year's tournament", assinale o que for correto.

- 01) O "apóstrofo+s" indica que o torneio acontece esse ano.
- 02) O "apóstrofo+s" indica uma contração da forma verbal "is".
- 04) O segmento todo pode ser substituído por "the tournament of this year".
- 08) O "apóstrofo+s" indica uma contração da forma verbal "has".

---

**40** – Assinale o que for correto, com relação às formas verbais "has been kept" e "hasn't won", no primeiro e segundo parágrafos, respectivamente.

- 01) As ações a que se referem começaram no passado.
  - 02) As ações a que se referem continuam verdadeiras no presente.
  - 04) As ações a que se referem estão definitivamente encerradas.
  - 08) As ações a que se referem dizem respeito ao futuro.
-